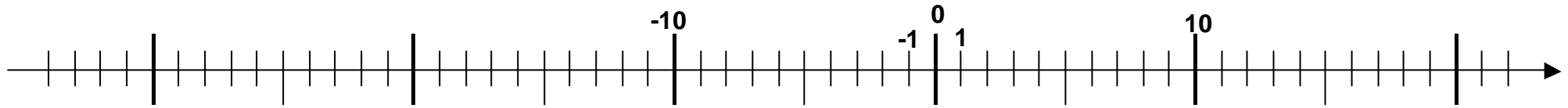
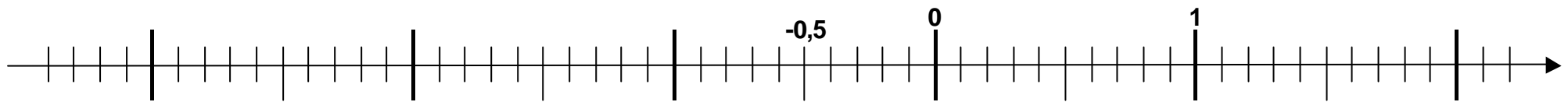


## Les nombres relatifs

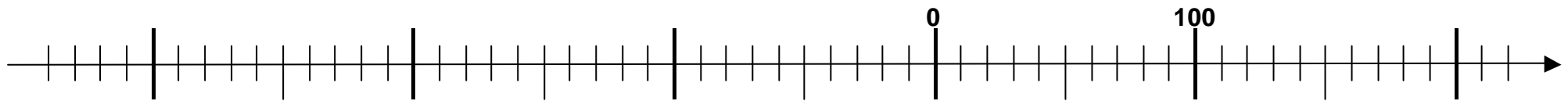
I) Compléter toutes les graduations de cette droite...



II) Compléter toutes les graduations de cette droite...



III) Sur cette droite, placez uniquement -290 ; -70 ; 90 ; -90 ; -10 ; 110 ; -110 ; -170 ; 190 ; -200.



IV) Dire à quel nombre correspondent les lettres A, B, C, D, E, F, G, H, I et J.

